
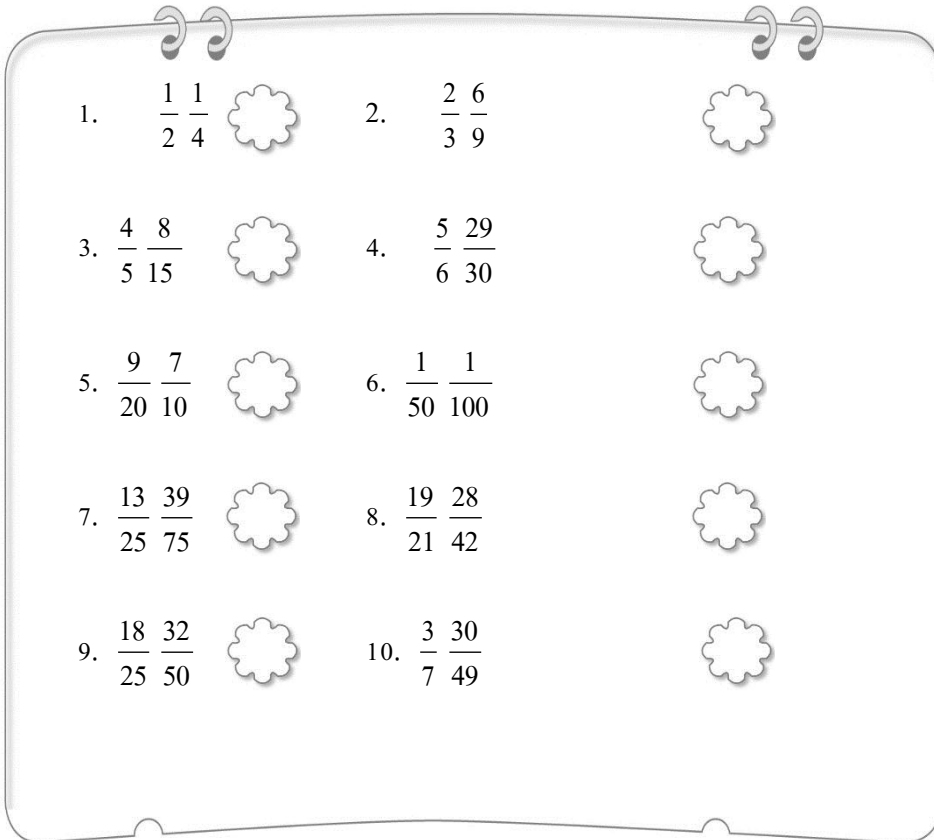












ใบงานที่ 3 การเปรียบเทียบเศษส่วน

วันที่.....เดือน.....พ.ศ.
ชื่อ.....ชั้น.....เลขที่.....

ได้คะแนน
.....
คะแนนเต็ม 10 คะแนน

เติมเครื่องหมาย > หรือ < หรือ = ลงในให้ถูกต้อง 



1. $\frac{1}{2}$ $\frac{1}{4}$ 	2. $\frac{2}{3}$ $\frac{6}{9}$ 
3. $\frac{4}{5}$ $\frac{8}{15}$ 	4. $\frac{5}{6}$ $\frac{29}{30}$ 
5. $\frac{9}{20}$ $\frac{7}{10}$ 	6. $\frac{1}{50}$ $\frac{1}{100}$ 
7. $\frac{13}{25}$ $\frac{39}{75}$ 	8. $\frac{19}{21}$ $\frac{28}{42}$ 
9. $\frac{18}{25}$ $\frac{32}{50}$ 	10. $\frac{3}{7}$ $\frac{30}{49}$ 

เฉลยใบงานที่ 3

1. >

2. =

3. >

4. <

5. <

6. >

7. =

8. >

9. >

10. <

