


# ใบงานที่ 1 การเขียนและการอ่านเศษส่วน

วันที่.....เดือน.....พ.ศ. ....ได้คะแนน  
ชื่อ.....ชั้น.....เลขที่.....


ให้นักเรียนเขียนเศษส่วนที่ระบายสี พร้อมทั้งเขียนคำอ่าน

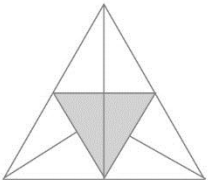
**ตัวอย่าง**

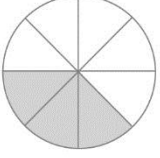



ส่วนที่ระบายสี  
เป็น 5 ส่วนของรูป

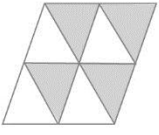
$\frac{5}{9}$  อ่านว่า เศษห้าส่วนเก้า




1. 

2. 

3. 

4. 

5. 

## เฉลยใบงานที่ 1

1.  $\frac{2}{8}$  อ่านว่า เศษสองส่วนแปด
2.  $\frac{3}{8}$  อ่านว่า เศษสามส่วนแปด
3.  $\frac{8}{16}$  อ่านว่า เศษแปดส่วนสิบหก
4.  $\frac{4}{8}$  อ่านว่า เศษสี่ส่วนแปด
5.  $\frac{3}{6}$  อ่านว่า เศษสามส่วนหก