

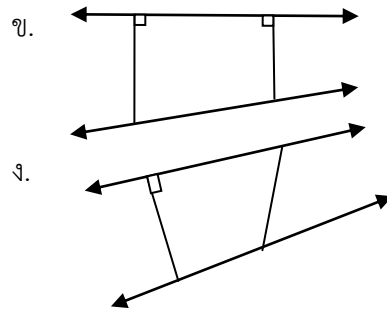
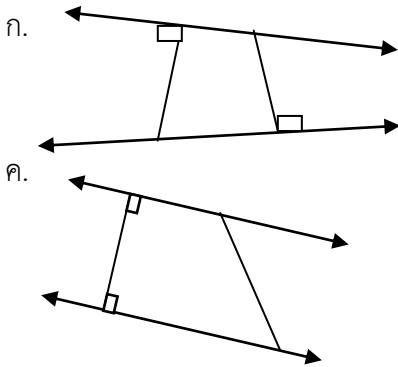
แบบทดสอบหลังเรียน

คำชี้แจง ให้เขียนเครื่องหมาย X ทับตัวอักษรหน้าคำตอบที่ถูกต้อง

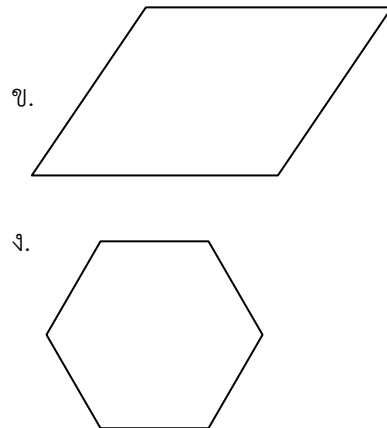
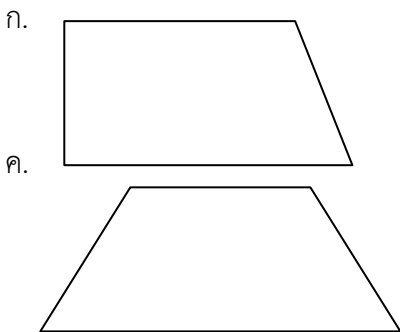
1. ข้อใดใช้สัญลักษณ์แทนการขนานได้ถูกต้อง

- ก. กข \nearrow คข \searrow ข. กข \backslash คข \backslash
 ค. กข $//$ คข $//$ ง. กข $|$ คข $|$


2. เส้นตรงคู่ใดต่อไปนี้ขนานกัน



3. รูปใดมีส่วนของเส้นตรงขนานกัน 2 คู่

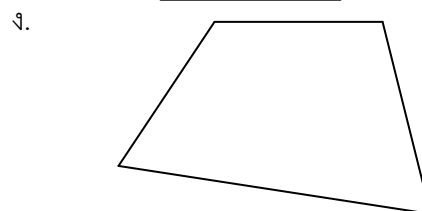
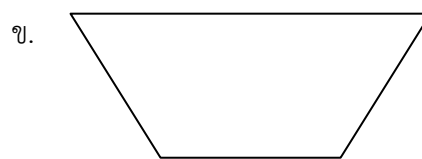
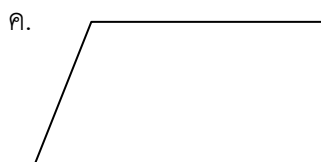
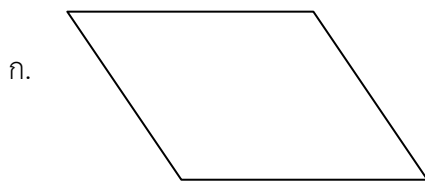


4. รูปนี้มีส่วนของเส้นตรงขนานกันกี่คู่



- | | |
|----------|----------|
| ก. 3 คู่ | ข. 4 คู่ |
| ค. 5 คู่ | ง. 6 คู่ |

5. มีจำนวนส่วนของเส้นตรงที่ขนานกันเท่ากับรูปใด



6. มีเส้นตรง 3 เส้น เส้นตรง AB ขนานกับเส้นตรง CD และเส้นตรง CD ขนานกับ เส้นตรง EF ข้อใด ถูกต้อง

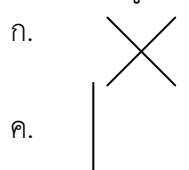
ก. $\overline{AB} \parallel \overline{CD}$

ข. $\overline{CD} \parallel \overline{EF}$

ค. $\overrightarrow{AB} \parallel \overrightarrow{EF}$

ง. $\overrightarrow{AC} \parallel \overrightarrow{BD}$

7. ส่วนของเส้นตรงคู่ใดขนานกัน



8. เครื่องมือใดเหมาะสมที่สุดในการวัดระยะห่างของเส้นขนาน

ก. เข็มนก

ค. ไม้เมตร

ข. ไม้ฉาก

ง. ไม้บรรทัด

9. มีเส้นตรง 8 เส้น ขนานกันจะมีช่องว่างระหว่างเส้นตรงกี่ช่อง

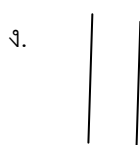
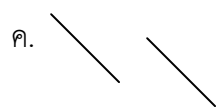
ก. 5 ช่อง

ข. 6 ช่อง

ค. 7 ช่อง

ง. 8 ช่อง

10. ข้อใดไม่ขนานกัน



เฉลยแบบทดสอบก่อนเรียน

- | | | | | |
|-------|-------|-------|-------|--------|
| 1. ค. | 2. ค. | 3. ข. | 4. ข. | 5. ก. |
| 6. ก. | 7. ง. | 8. ง. | 9. ค. | 10. ง. |